



Examen : Clasificación de polígono regulares

Fecha : Mon Mar 10 2025 10:36 AM

Estudiante : JUANCARLOS Y LEANDRO (JUANCARLOS Y LEANDRO)

Precisión

88%

Total preguntas

6

✓ Correcto

5

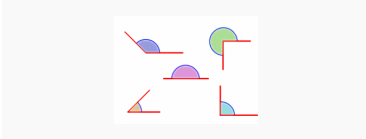
× Incorrecto

1

N.º	Pregunta	Tiempo	Puntos	Respuesta
1	Seleccione todos los polígonos que sean convexos .	7	2	<div>✓ </div> <div>✓ </div>
2	<p>Completa el siguiente enunciado de forma correcta.</p> <p>Un polígono donde uno de sus ángulos internos es mayor a 180 y menor que 360 se llama...</p>	3	1	✓ Polígono cóncavo
3	Seleccione todos los polígonos que sea regulares .	12	2	<div>✓ </div> <div>✓ </div>
4	Seleccione el nombre del siguiente polígono de 10 lados.	7	1	✓ Decágono
5	¿Un polígono irregular es el que tiene todos sus lados de igual medida?	4	0	<div>✗ </div>
6	Seleccione el nombre del siguiente polígono de 8 lados.	12	1	✓ Octágono

Appendix - Images

2.



Completa el siguiente enunciado de forma correcta.

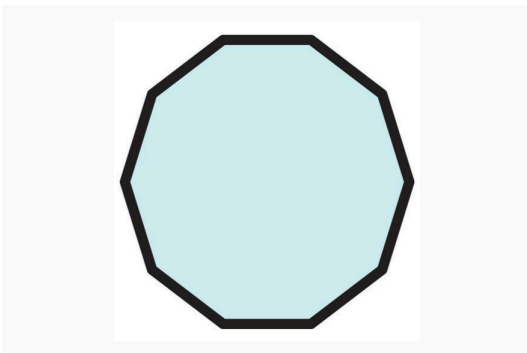
Un polígono donde uno de sus ángulos internos es mayor a 180 y menor que 360 se llama...

3.




Seleccione todos los polígonos que sea *regulares*.

4.



Seleccione el nombre del siguiente polígono de 10 lados.

6.



Seleccione el nombre del siguiente polígono de 8 lados.