



Examen : Clasificación de polígono regulares

Fecha : Mon Mar 10 2025 10:28 AM

Estudiante : Irati (Irati)

Precisión

**63%**

Total preguntas

**6**

✓ Correcto

**3**

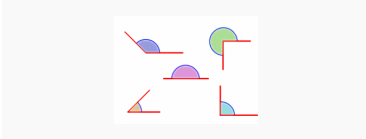
× Incorrecto

**3**

N.º	Pregunta	Tiempo	Puntos	Respuesta
1	Seleccione todos los polígonos que sean <b>convexos</b> .	31	2	<div>✓ </div> <div>✓ </div>
2	<p>Completa el siguiente enunciado de forma correcta.</p> <p>Un polígono donde uno de sus ángulos internos es mayor a 180 y menor que 360 se llama...</p>	38	0	✗ Polígono convexo
3	Seleccione todos los polígonos que sea <b>regulares</b> .	17	2	<div>✓ </div> <div>✓ </div>
4	Seleccione el nombre del siguiente polígono de 10 lados.	17	0	✗ dodecágono
5	¿Un polígono irregular es el que tiene todos sus lados de igual medida?	6	0	<div>✗ </div>
6	Seleccione el nombre del siguiente polígono de 8 lados.	26	1	✓ Octágono

## Appendix - Images

2.



Completa el siguiente enunciado de forma correcta.

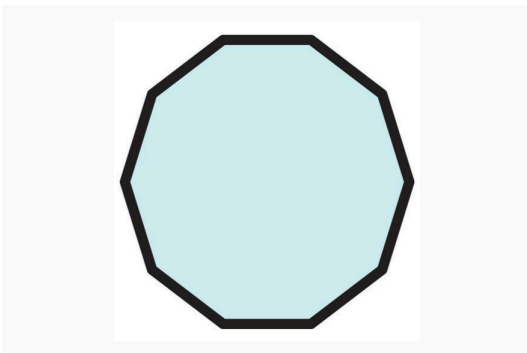
Un polígono donde uno de sus ángulos internos es mayor a 180 y menor que 360 se llama...

3.




Seleccione todos los polígonos que sea *regulares*.

4.



Seleccione el nombre del siguiente polígono de 10 lados.

6.



Seleccione el nombre del siguiente polígono de 8 lados.